

T.C.
KÜÇÜKÇEKMECE KAYMAKAMLIĞI
TÜCCAR VE SANAYİCİLER DERNEĞİ İLKOKULU MÜDÜRLÜĞÜ



[aklımı seviyorum,
zekamla övünüyorum.]

AKIL VE ZEKA OYUNLARI
KAĞIT-KALEM İŞLEMLERİ
17 Ocak 2017 Salı Saat: 15:00

Adı ve Soyadı :

Okulunun Adı :

Sınıfı/Şubesi :...../.....

PUANI


AÇIKLAMALAR

1. Sınav süresi 50 dakikadır.
2. Her sorunun bir doğru cevabı vardır.
3. Bir soruda birden çok şıkkın işaretlenmesi halinde cevaplar geçersiz sayılacaktır.
4. Soru kitapçığının üzerindeki isim ve okul bilgilerinizi doğru ve eksiksiz olarak yazınız.
5. Cevapları kitapçık üzerindeki seçenekleri daire içerisine alarak yapınız.
6. Her soru 5 puandır. Sınav 100 puan üzerinden değerlendirilecektir.
7. Doğru cevapların puanlarının toplamı sınav puanı olacaktır.
8. Soru kitapçığını sınav salonu dışına çıkarmayınız.
9. Soru kitapçığını sınav bitiminde görevli öğretmene teslim ediniz.
10. Puanlama kitapçık üzerinde yapılan işaretlemeler ile yapılacaktır.


1.
SINIF

Soru Sayısı	Süre	Örnek işaretleme
20	50 dk.	A) 1 (B) 5 C) 4

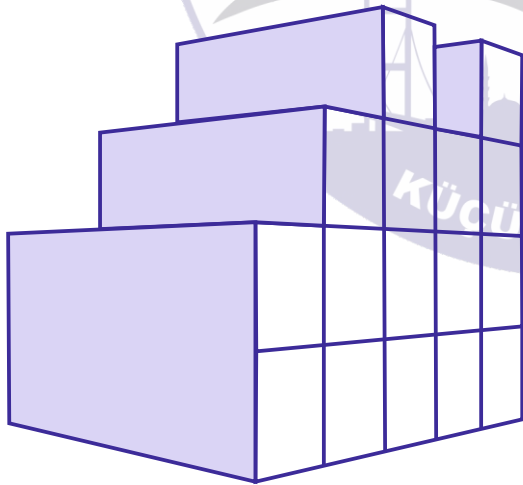
SORU 1:



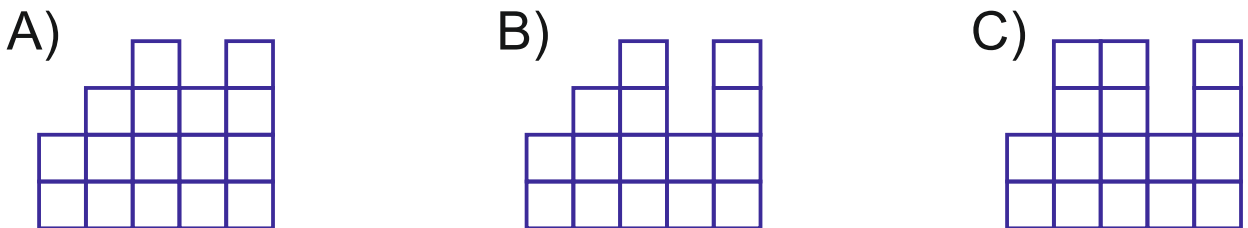
4. sıraya aşağıdaki şekillerden hangisi gelmelidir?



SORU 2:



Yandaki şekil karşıdan bakınca nasıl görünür?



SORU 3:




Yandaki resimdeki daltonları boylarına göre küçükten büyüğe sıralarsak hangisi doğru olur?

A) 1-2-3-4

B) 2-3-4-1

C) 3-2-4-1

SORU 4:



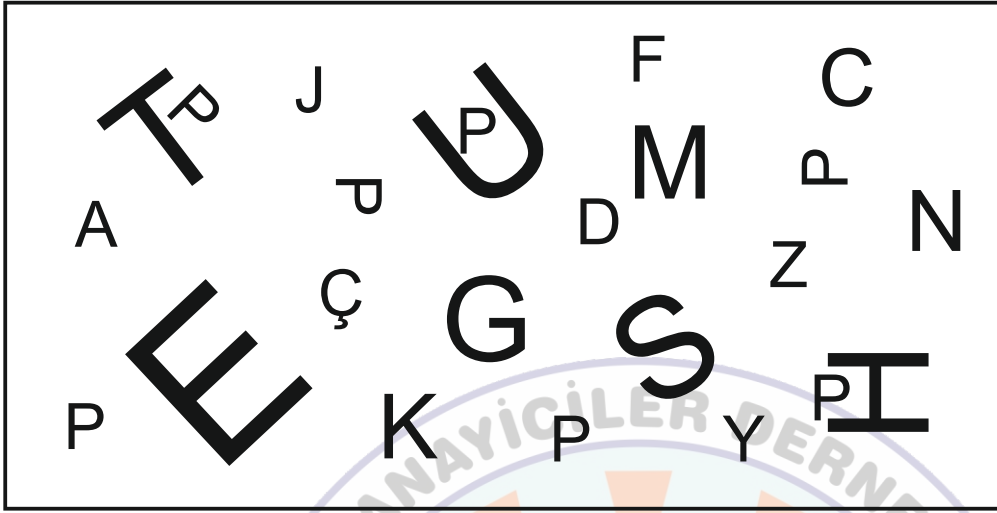
Yukarıdaki numaralandırılmış resimleri olayların meydana geliş sırasına göre sıraladığımız zaman aşağıdakilerden hangisi doğru olur?

A) 1-2-3-4

B) 3-2-1-4

C) 2-4-3-1

SORU 5:



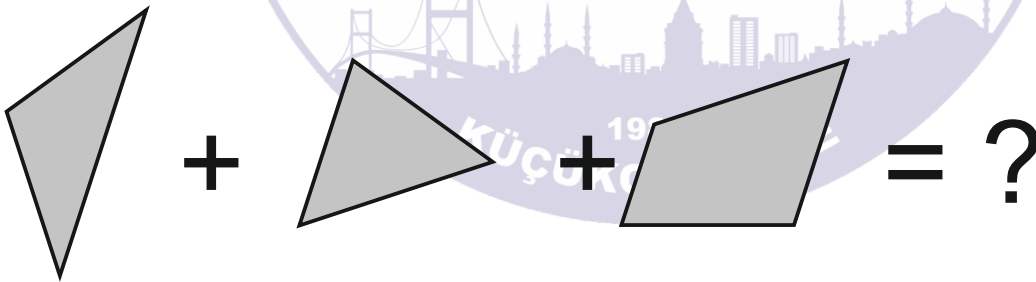
Yukarıdaki tabloda kaç tane "P" harfi vardır?

A) 5

B) 6

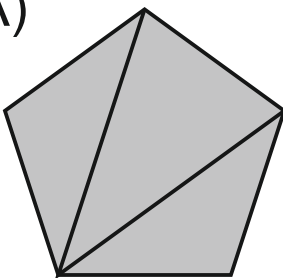
C) 7

SORU 6:

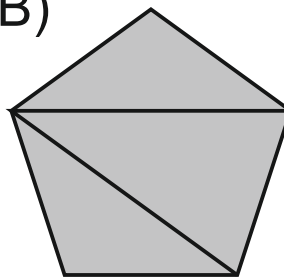


Yukarıdaki üç parçanın birleşmesi ile hangi şekil elde edilir?

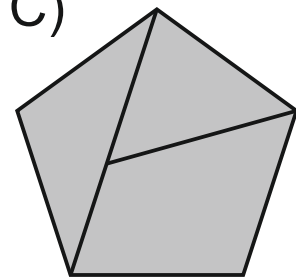
A)



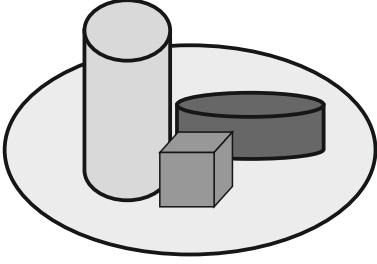
B)



C)

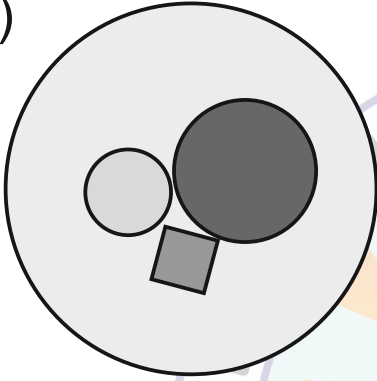


SORU 7:

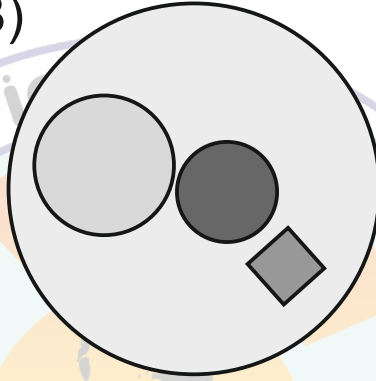


Yandaki şekil tepeden bakıldığında nasıl görünür?

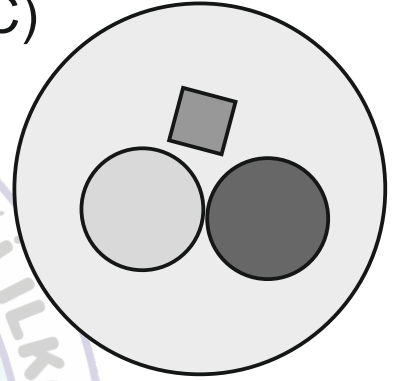
A)



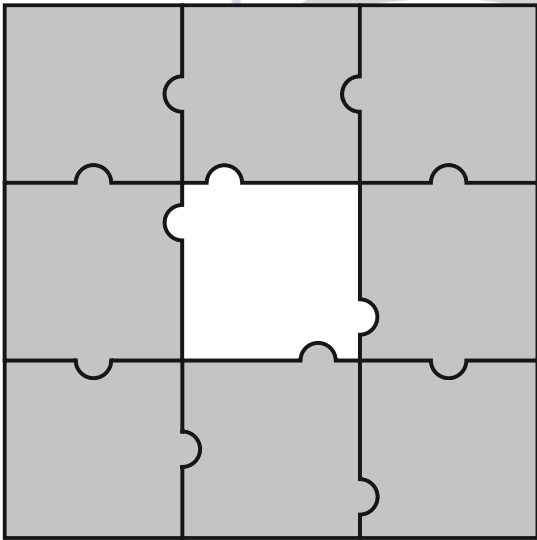
B)



C)

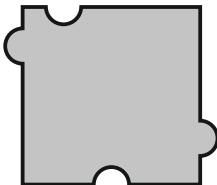


SORU 8:




Yandaki yapbozda eksik parça
aşağıdakilerden hangisidir?

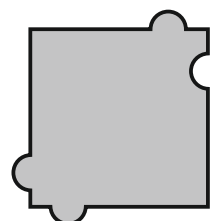
A)



B)



C)



SORU 9:

1234	4123	3412	?
------	------	------	---

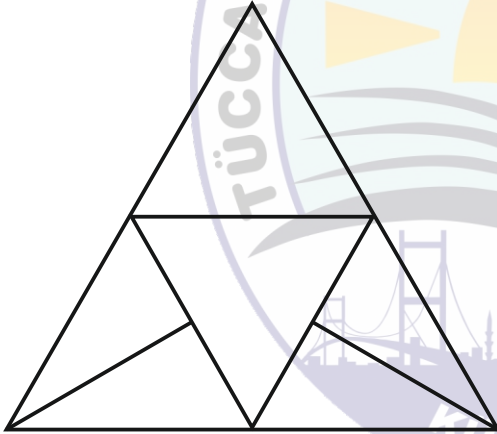
Yukarıdaki tabloda sayılar belli bir kurala göre sıralanmıştır. Buna göre soru işaretinin bulunduğu yere hangisi gelmelidir?

A) 4321

B) 2341

C) 1243

SORU 10:



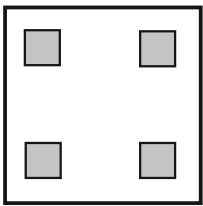
Yanda verilen şekilde kaç tane üçgen vardır?

A) 8

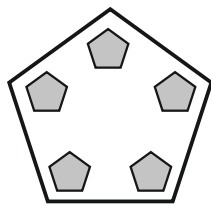
B) 9

C) 10

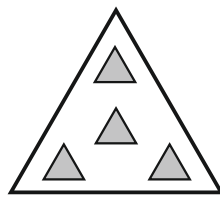
SORU 11:



1



2



3

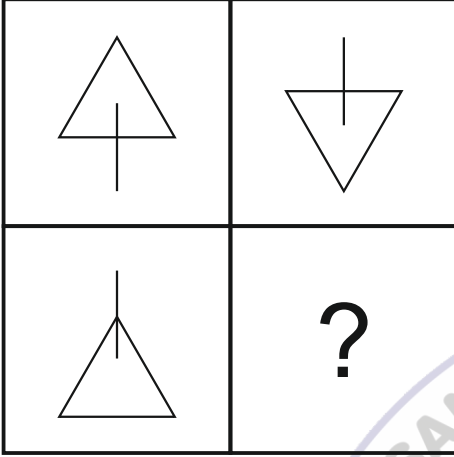
Yandaki verilen şekillerden hangisi bir yönüyle diğerlerinden farklıdır?

A) 3

B) 2

C) 1

SORU 12:



Yandaki tabloda soru işareti olan yere hangi şekil gelmelidir?

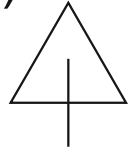
A)



B)



C)




SORU 13:

Yandaki iki resim arasında kaç fark vardır?

A) 2

B) 3

C) 4



SORU 14:




Yandaki korkuluğun gölgesi aşağıdakilerden hangisidir?

A)



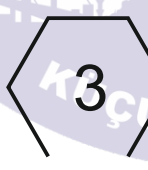

B)



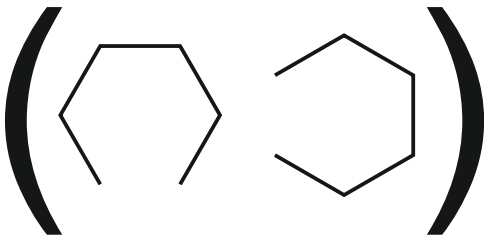
C)



SORU 15:



Yukarıdaki şekiller, üzerindeki sayılarla eşleşmiştir.
Buna göre;



Şekil grubu hangi sayı ile eşlenir?

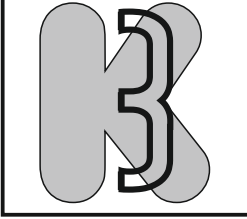
A) 32

B) 21


C) 13

SORU 16:

İSTENEN ŞEKİL:



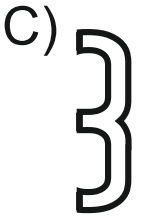
İstlenen şeklin oluşması için 1. şekil ile aşağıdakilerden hangisi üst üste gelmelidir?



1. Şekil



2. Şekil




SORU 17:

Yandaki şemsiyenin gölgesi hangi numarada verilmiştir?

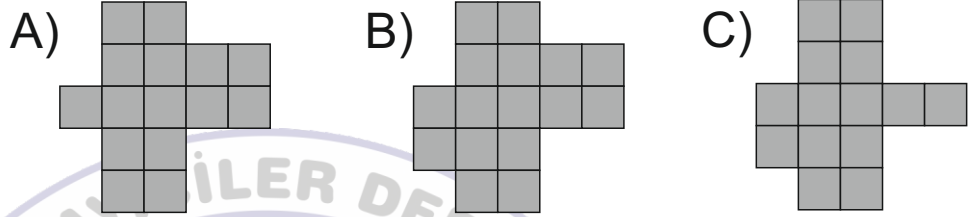


- A) 1
B) 2
C) 3
D) 4

SORU 18:




Yandaki şeklin çıkarılan parçası aşağıdakilerden hangisidir?

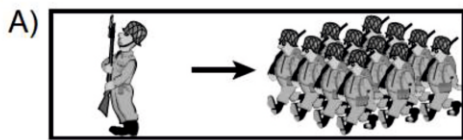


SORU 19:

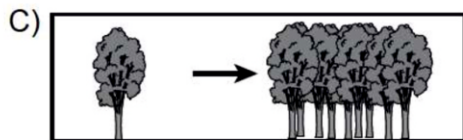
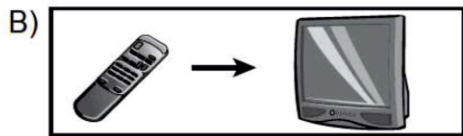
Aşağıdaki hayvanlardan hangisi ötekilere göre farklıdır?



SORU 20:



Yandaki eşleşmelerde mantık ve anlam ilişkisi bakımından farklı olanı bulun.



SINAV BİTMİŞTİR.

**SINAV KİTAPÇIĞINI SALONDA GÖREVLİ
ÖĞRETMENE TESLİM EDİNİZ.**