

T.C.
KÜÇÜKÇEKMECE KAYMAKAMLIĞI
TÜCCAR VE SANAYİCİLER DERNEĞİ İLKOKULU MÜDÜRLÜĞÜ



[aklımı seviyorum,
zekamla övünüyorum.]

AKIL VE ZEKA OYUNLARI
KAĞIT-KALEM İŞLEMLERİ
17 Ocak 2017 Salı Saat: 15:00

Adı ve Soyadı :

Okulunun Adı :

Sınıfı/Şubesi :...../.....

PUANI

AÇIKLAMALAR

1. Sınav süresi 50 dakikadır.
2. Her sorunun bir doğru cevabı vardır.
3. Bir soruda birden çok şıkkın işaretlenmesi halinde cevaplar geçersiz sayılacaktır.
4. Soru kitapçığının üzerindeki isim ve okul bilgilerinizi doğru ve eksiksiz olarak yazınız.
5. Cevapları kitapçık üzerindeki seçenekleri daire içerisine alarak yapınız.
6. Her soru 5 puandır. Sınav 100 puan üzerinden değerlendirilecektir.
7. Doğru cevapların puanlarının toplamı sınav puanı olacaktır.
8. Soru kitapçığını sınav salonu dışına çıkarmayınız.
9. Soru kitapçığını sınav bitiminde görevli öğretmene teslim ediniz.
10. Puanlama kitapçık üzerinde yapılan işaretlemeler ile yapılacaktır.



2.
SINIF




Soru Sayısı	Süre	Örnek işaretleme
20	50 dk.	A) 1 (B) 5 C) 4

SORU 1:

SAYILAR VE ŞEKİLLER

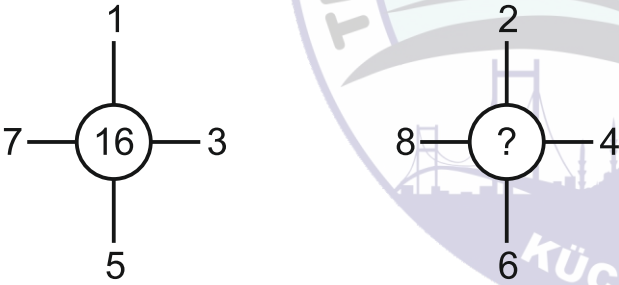
Aşağıdaki isimlerin sayı ve şekil olarak karşılıkları verilmiştir. ABDULLAH kelimesinin sayı ve şekil olarak karşılığını da siz bulunuz.

AZRA → IIII → 
NESİBE → IIIIII → 
ABDULLAH → ? → ?

- A) III → 
B) IIIII → 
C) IIIIIII → 

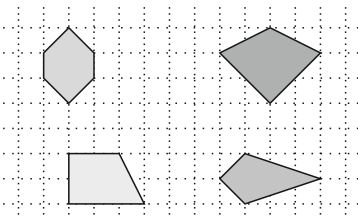
SORU 2:

Birinci göstergiyi dikkatle inceleyiniz. İkinci göstergede soru işareti yerine gelmesi gereken sayıyı bulunuz?



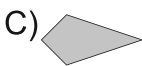


- A) 20 B) 18 C) 22

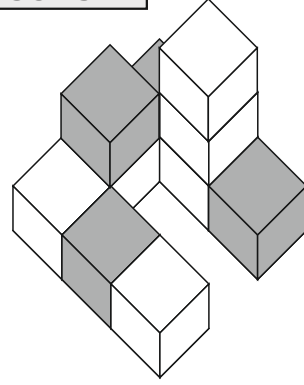
SORU 3:



EŞ PARÇALAR
Yandaki şekillerden hangisi bir çizgiyle iki eş parçaya bölünemez?

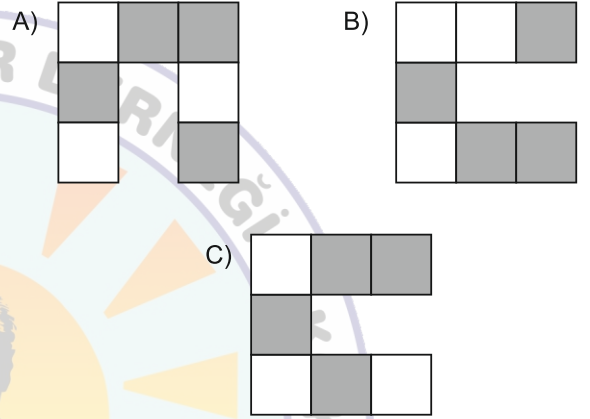
- A)  B)  C) 

SORU 4:



KUŞ BAKIŞI

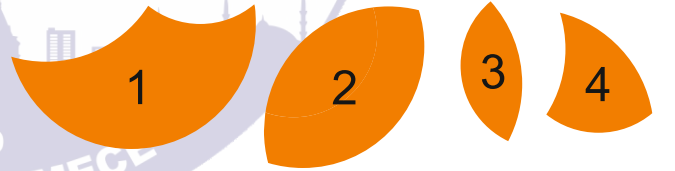
Yandaki siyah ve beyaz renklerden oluşan cismin üstten görünüşü seçeneklerden hangisinde doğru verilmiştir?



SORU 5:


DAİRE

Aşağıdaki şekillerden üç tanesini birleştirerek tam bir daire oluşturulmaktadır. Buna göre hangi şekil dışarıda kalır?



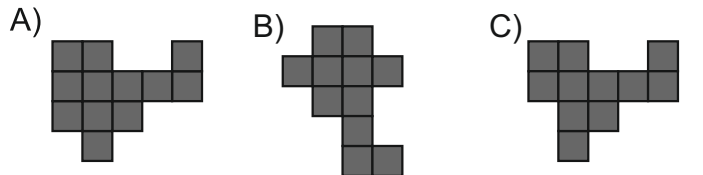
- A) 1 B) 2 C) 3

SORU 6:

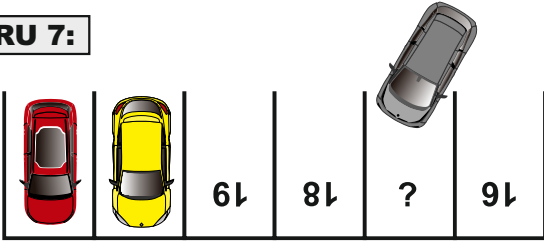


EKSİK PARÇA

Aşağıdaki şekilden bir parça çıkarılmıştır. Bu parça seçeneklerden hangisinde verilmiştir?



SORU 7:

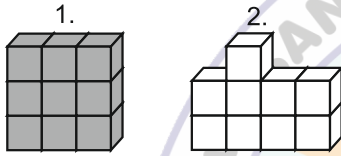


OTOPARK

Dışarıdaki arabanın park edeceği yerin numarası kaçtır?

- A) 17 B) 20 C) 15

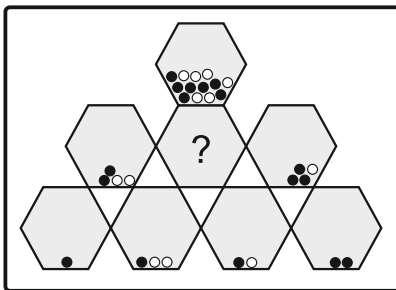
SORU 8:



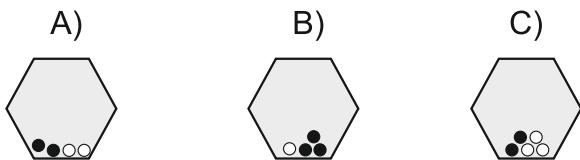
Yukarıda verilen 1. ve 2. kaplardaki bölmeler eşit büyüklüktedir. Birinci kap tamamen suyla doludur. Birinci kaptaki suyun tamamını, boş olan ikinci kaba boşaltırsak ikinci kaptaki suyun görünümü nasıl olur?



SORU 9:



Yandaki verilen kavanozlarda çeşitli siyah ve beyaz bilyeler vardır. Kavanozlarda verilen düzene göre soru işareti bulunan kavanozun yerine aşağıda verilenlerden hangisi gelmelidir?



SORU 10:

İSİM-YAŞ İLİŞKİSİ



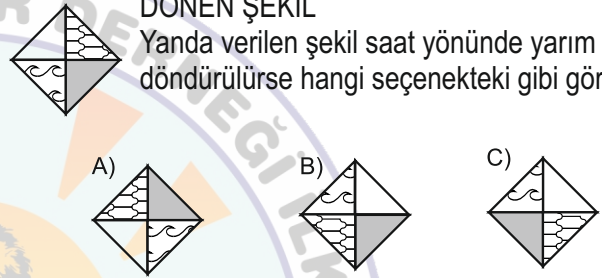
Ali, Mete ve Metin mahalleden üç iyi arkadaştır. Bu arkadaşların isimleri ve yaşları arasında bir ilişki vardır. Ali 6, Mete 8 yaşında olduğuna göre Metin kaç yaşındadır?

- A) 8 B) 10 C) 12

SORU 11:

DÖNEN ŞEKİL

Yanda verilen şekil saat yönünde yarım tur döndürülürse hangi seçenekteki gibi görünür?



SORU 12:


A	K	A	K
K	A	Y	A
A	R	S	R
R	A	A	E

KELİME OYUNU

Yandaki bulmacada soldan sağa veya yukarıda aşağıya doğru hangi seçenekteki kelime yazmamaktadır?

- A) KAYA B) KARA C) KASA

SORU 13:

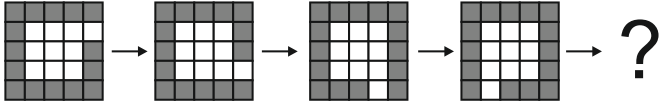


ÇOKGENLER

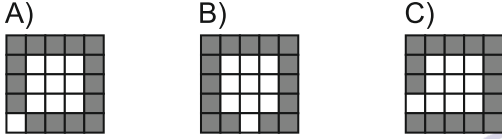
Yandaki verilen şekiller bir kurala göre dizilmiştir. “?” ile gösterilen kutuya hangi seçenekteki şekil gelmelidir?




SORU 14:



Yukarıda verilen şekiller arasındaki ilişkiye göre, bir sonraki şekil aşağıdakilerden hangisi olmalıdır?



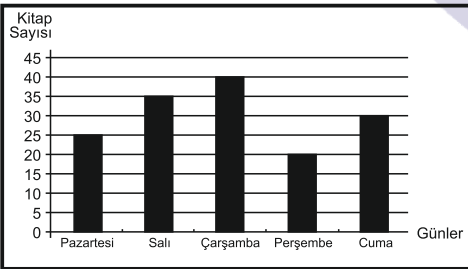
SORU 15:



Yandaki şekiller belli bir kurala göre dizilmiştir. Buna göre soru işareti olan yere hangi şekil gelmelidir?



SORU 16:

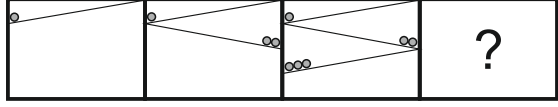


Bu grafik Fatih'in beş gün boyunca okuduğu kitap sayfasını göstermektedir.

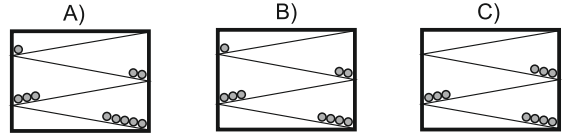
Buna göre, grafikte ilgili aşağıdakilerden hangisi doğrudur?

- A) Pazartesi günü diğer günlerden daha az kitap okumuştur.
B) En fazla kitabı Çarşamba günü okumuştur.
C) Salı ve Cuma günleri eşit sayfada kitap okumuştur.

SORU 17:



Yukarıda verilen şekillerin dizilimine göre soru işaretinin bulunduğu yere aşağıdakilerden hangisi gelmelidir?



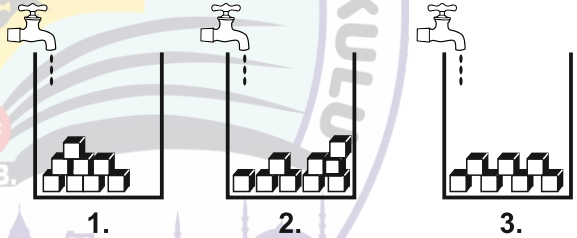
SORU 18:

Aşağıdaki eşleşmeler arasında mantık ve anlam ilişkisi bulunmaktadır. Soru işareti olan yere birinci eşleşmedeki ilişkiye göre seçeneklerden hangi kelime gelecektir?

Yağmur - Sel
Kar - ?

- A) Çığ B) Deprem C) Heyelan

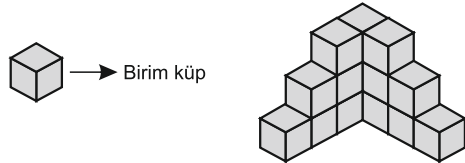
SORU 19:



Yukarıda verilen eşit (hacimli) kaplardan içerisinde farklı sayıda eşit büyüklükte küpler bulunmaktadır. Musluklardan eşit miktarda su akıtıldığına göre, en önce hangi kap dolar?

- A) 1. B) 2. C) 3.

SORU 20:



Birbirinden bağımsız birim küplerden oluşan yukarıdaki şekilde kaç tane birim küp vardır?

- A) 15 B) 14 C) 13

SINAV BİTMİŞTİR.

**SINAV KİTAPÇIĞINI SALONDA GÖREVLİ
ÖĞRETMENE TESLİM EDİNİZ.**