

T.C.  
KÜÇÜKÇEKMECE KAYMAKAMLIĞI  
TÜCCAR VE SANAYİCİLER DERNEĞİ İLKOKULU MÜDÜRLÜĞÜ



[ aklımı seviyorum,  
zekamla övünüyorum. ]

**AKIL VE ZEKA OYUNLARI**  
**KAĞIT-KALEM İŞLEMLERİ**  
**18 Ocak 2017 Çarşamba Saat: 15:00**

Adı ve Soyadı : .....

Okulunun Adı : .....

Sınıfı/Şubesi :...../.....

**PUANI**

**AÇIKLAMALAR**

1. Sınav süresi 60 dakikadır.
2. Her sorunun bir doğru cevabı vardır.
3. Bir soruda birden çok şıkkın işaretlenmesi halinde cevaplar geçersiz sayılacaktır.
4. Soru kitapçığının üzerindeki isim ve okul bilgilerinizi doğru ve eksiksiz olarak yazınız.
5. Cevaplarınızı kitapçıktaki her sorunun altında bulunan cevap alanına kodlayarak yapınız.
6. Her soru 4 puandır. Sınav 100 puan üzerinden değerlendirilecektir.
7. Doğru cevapların puanlarının toplamı sınav puanı olacaktır.
8. Soru kitapçığını sınav salonu dışına çıkarmayınız.
9. Soru kitapçığını sınav bitiminde görevli öğretmene teslim ediniz.
10. Puanlama kitapçıktaki soruların altındaki alanda yapılan işaretlemeler ile yapılacaktır.

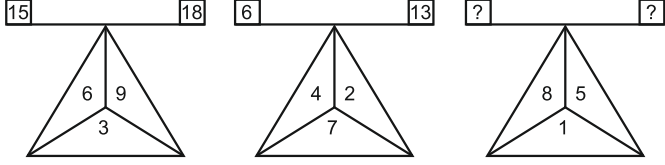
**3.**  
**SINIF**

Soru Sayısı	Süre
25	60 dk.

Cevap:
Örnek Kodlama
1. <input type="radio"/> A <input type="radio"/> B <input checked="" type="radio"/> C <input type="radio"/> D

**SORU 1:**

Aşağıdaki iki örneğe bakarak üçgenin üzerindeki terazide soru işareti yerine gelmesi gereken sayılar aşağıdaki seçeneklerden hangisinde doğru olarak verilmiştir?



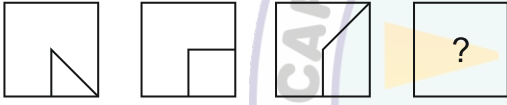
- A) 12-15 B) 10-12 C) 12-16 D) 13-14

Cevap:

1. (A) (B) (C) (D)

**SORU 2:**

Aşağıdaki karelerin içlerindeki çizgiler belli bir düzene göre sıralanmıştır. Buna göre soru işareti yerine gelmesi gereken çizgiyi bulunuz.



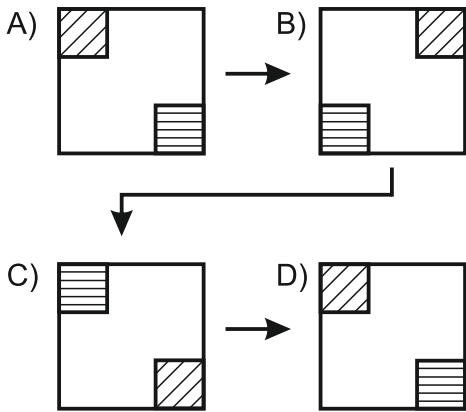
- A)  B)  C)  D) 

Cevap:

2. (A) (B) (C) (D)

**SORU 3:**

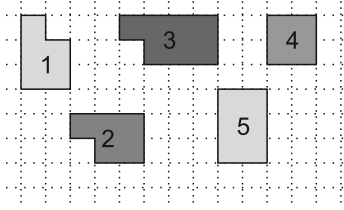
Aşağıda hediye kutularından oluşan bir şekil dizisi bulunmaktadır. Bu kutular belirli bir düzene göre sıralanmıştır. Kutulardan bir tanesi diziyi bozmaktadır. Sırayı bozan hediye kutusunu bulunuz ve işaretleyiniz.



Cevap:

3. (A) (B) (C) (D)

**SORU 4:**



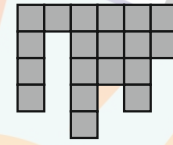
Yandaki şekillerden hangi üçünü birleştirerek bir kare elde edebiliriz?

- A) 1-3-4 B) 1-2-5 C) 2-3-5 D) 1-2-3

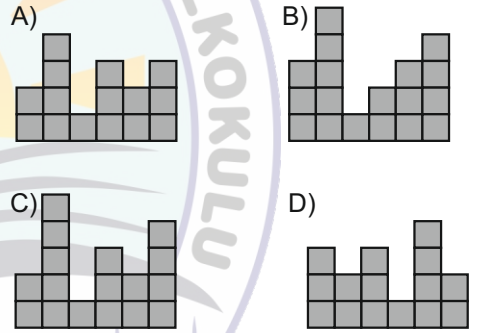
Cevap:

4. (A) (B) (C) (D)

**SORU 5:**



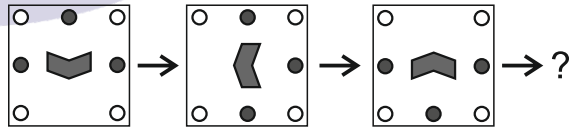
Yanda verilen şekil ile aşağıdakilerden hangisini birleştirirsek bir "kare" elde ederiz?



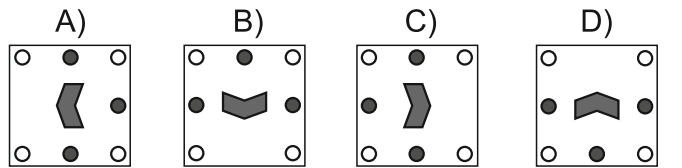
Cevap:

5. (A) (B) (C) (D)

**SORU 6:**




Üstte verilen şekil ve renk dizilimine göre soru işaretinin bulunduğu yere aşağıdakilerden hangisi gelmelidir?



Cevap:

6. (A) (B) (C) (D)

**SORU 7:**



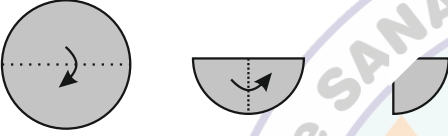
Kerem arkadaşlarına yandaki harf ve resim ile bir kelime anlatmak istiyor. Bu kelime nedir?

- A) ÇEVİK B) ÇELİK  
C) ÇİLEK D) ÇİÇEK

Cevap:

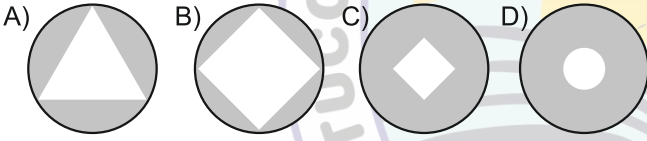
7. (A) (B) (C) (D)

**SORU 8:**



**DAİRE KESME**

Şekildeki gibi ok yönünde katlanan daire en son yukarıda görüldüğü gibi kesiliyor. Daire tekrar açıldığında görüntüsü aşağıda verilen şekillerden hangisi gibi olur?



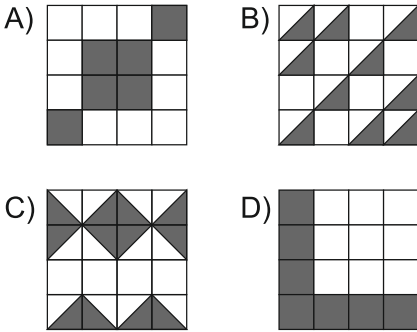
Cevap:

8. (A) (B) (C) (D)

**SORU 9:**

**ALAN KAPLAMA**

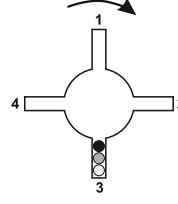
Aşağıdaki verilen boyalı parçalardan hangisi en az alanı kaplamaktadır?



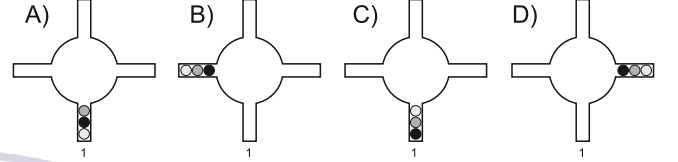
Cevap:

9. (A) (B) (C) (D)

**SORU 10:**



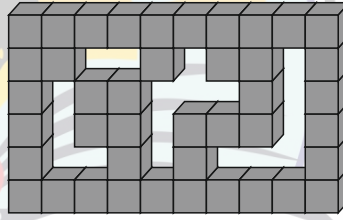
Yandaki verilen düzenek içerisinde bilyeler rahatça hareket edebiliyor. Düzenek düzgün bir şekilde ok yönünde 1 numaralı kısım en altta olacak şekilde döndürülürse düzenekğin son görünümü aşağıdakilerden hangisi gibi olur?



Cevap:

10. (A) (B) (C) (D)

**SORU 11:**



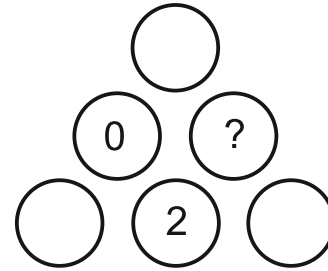
Yanda verilen şekli tamamlamak için kaç tane küpe ihtiyacımız vardır?

- A) 15 B) 18 C) 17 D) 19

Cevap:

11. (A) (B) (C) (D)

**SORU 12:**



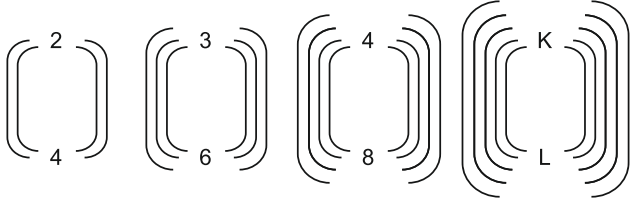
**SAYI YERLEŞTİR**  
0-1-2-3-4-5 sayılarını boşluklara öyle bir şekilde yerleştiriniz ki, üçgenin her bir kenarındaki sayıların toplamı 8 olsun. Bu şekilde sayılar yerleşince soru işareti olan yere hangi sayı gelir?

- A) 1 B) 3 C) 4 D) 5

Cevap:

12. (A) (B) (C) (D)

**SORU 13:**



Belli bir kurula göre oluşturulmuş yukarıdaki şekilde "K" ve "L" yerine gelecek sayıların toplamı kaçtır?

- A) 5      B) 10      C) 13      D) 15

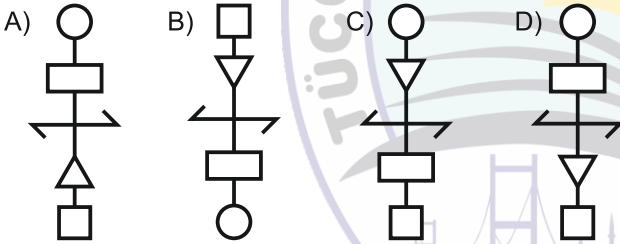
Cevap: 13. (A) (B) (C) (D)

**SORU 14:**



ÇÖP ADAM

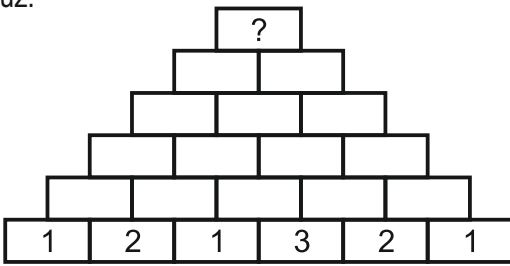
Yukarıdaki şekil ile aşağıdaki şekillerden hangisi eştir (aynıdır) ?



Cevap: 14. (A) (B) (C) (D)

**SORU 15:**

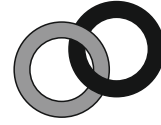
Her karedeki sayı altındaki iki karede bulunan sayıların toplamı kadardır. Buna göre en üstteki karedeki sayıyı bulunuz.



- A) 62      B) 60      C) 64      D) 58

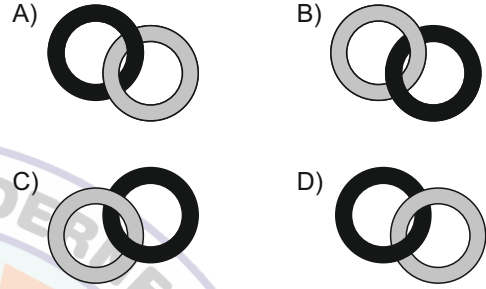
Cevap: 15. (A) (B) (C) (D)

**SORU 16:**



İÇ İÇE HALKALAR

Yandaki iç içe geçmiş halkaların önden görünüşleri verilmiştir. Halkalara arkadan bakan Emel halkaları nasıl görür?



Cevap: 16. (A) (B) (C) (D)

**SORU 17:**

MANTIKSAL İLİŞKİ

ODUNCU-BALTA arasındaki mantıksal ilişki hangi seçenekte verilenler arasında yoktur?

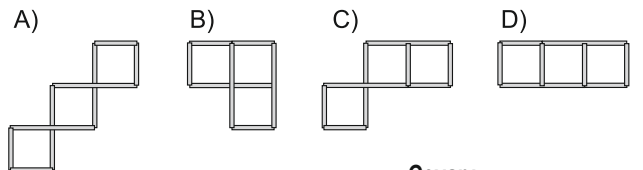
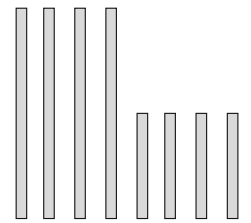
- A) Boyacı - Fırça  
B) Fırıncı - Ekmek  
C) Terzi - Makas  
D) Tamirci - Tornavida

Cevap: 17. (A) (B) (C) (D)

**SORU 18:**

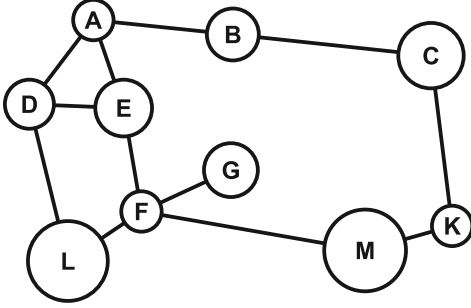
EŞ KARELER

Aynur'un elinde 4 tane uzun çubuk, 4 tane de bunların yarısı kadar uzunlukta kısa çubuk vardır. Aynur bu sekiz çubuğun hepsini kullanarak üç tane eş kareyi nasıl elde edebilir?



Cevap: 18. (A) (B) (C) (D)

**SORU 19:**



**KÖPRÜ**

Yukarıda bazı şehirler arasındaki köprüler gösterilmiştir. En az kaç köprü iptal edilirse A ile F arasındaki ulaşım iptal olur?

- A) 1 B) 2 C) 3 D) 4

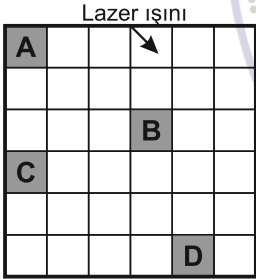
Cevap:

19. (A) (B) (C) (D)

**SORU 20:**

**LAZER IŞINI**

Şekilde küçük eş karelere bölünmüş bir kutu verilmiştir. Kutunun kenarlarına aynalar yerleştirilmiştir. Şekildeki gibi gönderilen lazer ışını aynalardan yansıdıktan sonra hangi harfli kutu veya kutulardan geçer?



A) C ve D

B) A

C) B ve A

D) C

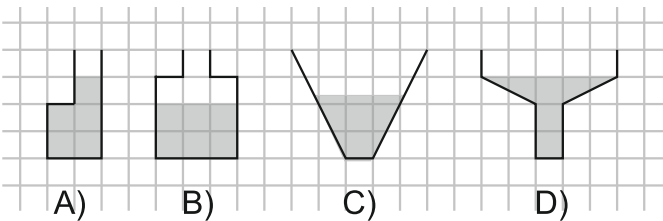
Cevap:

20. (A) (B) (C) (D)

**SORU 21:**

**HANGİSİ FAZLA**

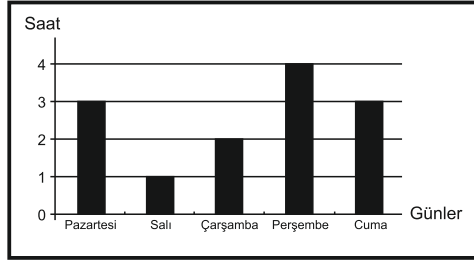
Aşağıda birim kareler üzerinde çizilmiş kaplar ve içindeki su miktarları verilmiştir. Hangi kaptan daha fazla su vardır?



Cevap:

21. (A) (B) (C) (D)

**SORU 22:**



Grafikte, Elif'in beş günlük ders çalışma süresi gösterilmiştir.

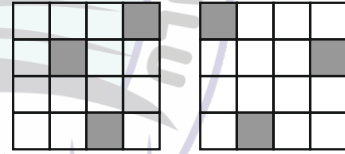
Buna göre, grafikte ilgili aşağıdakilerden hangisi söylenemez?

- A) En çok Perşembe günü çalışmıştır.  
B) Pazartesi ve Cuma günlerinde çalıştığı süreler birbirine eşittir.  
C) Perşembe günü, Pazartesi ve Çarşamba günlerinin toplamından daha çok çalışmıştır.  
D) Salı ve Çarşamba günleri çalıştığı toplam süre, Pazartesi günü çalıştığı süreye eşittir.

Cevap:

22. (A) (B) (C) (D)


**SORU 23:**




**SİYAH BEYAZ KARELER**

Şekildeki levhalarda beyaz kareler şeffaftır. Siyah kareler ise ışığı geçirmemektedir. Levhalar çakıştırıldığında üst üste gelen karelerin hepsi beyaz ise beyaz, en az biri siyah ise siyah görünmektedir. Bu iki levha döndürülmeden çakıştırıldığında (üst üste konulduğunda) aşağıdakilerden hangisi gibi görünür?


A)




B)



C)



D)



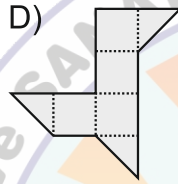
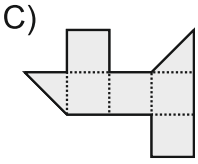
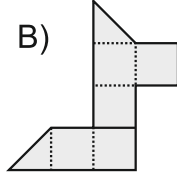
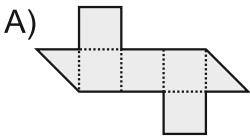
Cevap:

23. (A) (B) (C) (D)

**SORU 24:**

KÜP

Aşağıdaki seçenekteki şekillerden hangisi işaretli yerlerden katlanıp kapandığında bir küp oluşur?



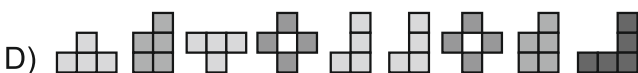
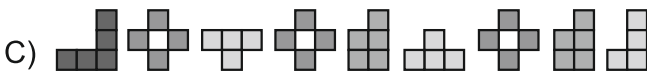
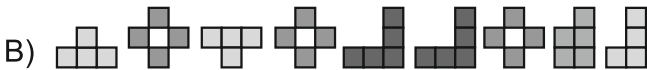
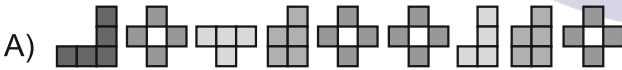
Cevap:

24. (A) (B) (C) (D)

**SORU 25:**

ŞİFRELEME

Aşağıdaki verilen seçeneklerden hangisi ÇANAKKALE kelimesinin şifrelenmiş halidir.



Cevap:

25. (A) (B) (C) (D)

**SINAV BİTMİŞTİR.**

**SINAV KİTAPÇIĞINI SALONDA GÖREVLİ  
ÖĞRETMENE TESLİM EDİNİZ.**